


FRANAČKA



Osnivanje franačke države

- Od barbarskih država osnovanih na području nekadašnjeg Zapadnog Rimskog Carstva, najvažnija je bila **Franačka** – osnovali su je **Franci**.

Kaciga iz Morkena kraj
Kölna (Njemačka), oko 600.



- Krajem 5. i početkom 6. stoljeća, za vrijeme kralja **Klodviga** (obitelj Merovinga), Franačka se širi.



- U borbama za vlast u 8.st. kraljevi gube na značenju, a vodeća uloga pripada upraviteljima kraljeva dvora - majordomima.
- Najznačajniji majordomi su bili **Karlo Martel i Pipin Mali.**



Godine 732. Karlo Martel, kod mjesta Poitersa (Poatje), zaustavio prodor Arapa u Europu.

- Franački majordom Pipin Mali (u sredini).



ZADATAK

Dopunite natuknice:

- najjača barbarska država bila je _____
- proširila se potkraj ____ i početkom 6.st. u vrijeme kralja _____
- u 8.st. važni postaju _____, npr.

Karlo _____ i _____ Mali

Pročitajte drugi odlomak teksta u udžb. na str. 8 i odgovorite:

Koju je dinastiju osnovao Pipin Mali?

Uz čiju pomoć je ojačao Franačku?

Kada je i gdje nastala Papinska država?

Vrhunac u vrijeme Karla Velikog

- Za vrijeme Pipinova sina **Karla (2.pol.8. i poč.9.st.)**, Franačka doseže vrhunac



STVARANJE EUROPE



CAROLUS MAGNUS

STVARANJE EUROPE

KARLO VELIKI



742.-814.

800.-2000.



REPUBLIKA HRVATSKA

1440

KARLO VELIKI
STVARANJE EUROPE

ZHP

ZRINSKI

2001

SEPCAR

Croatia

- Osvojio je gotovo čitavu Zapadnu Europu.





**Krunjenje Karla Velikog
(800.)**

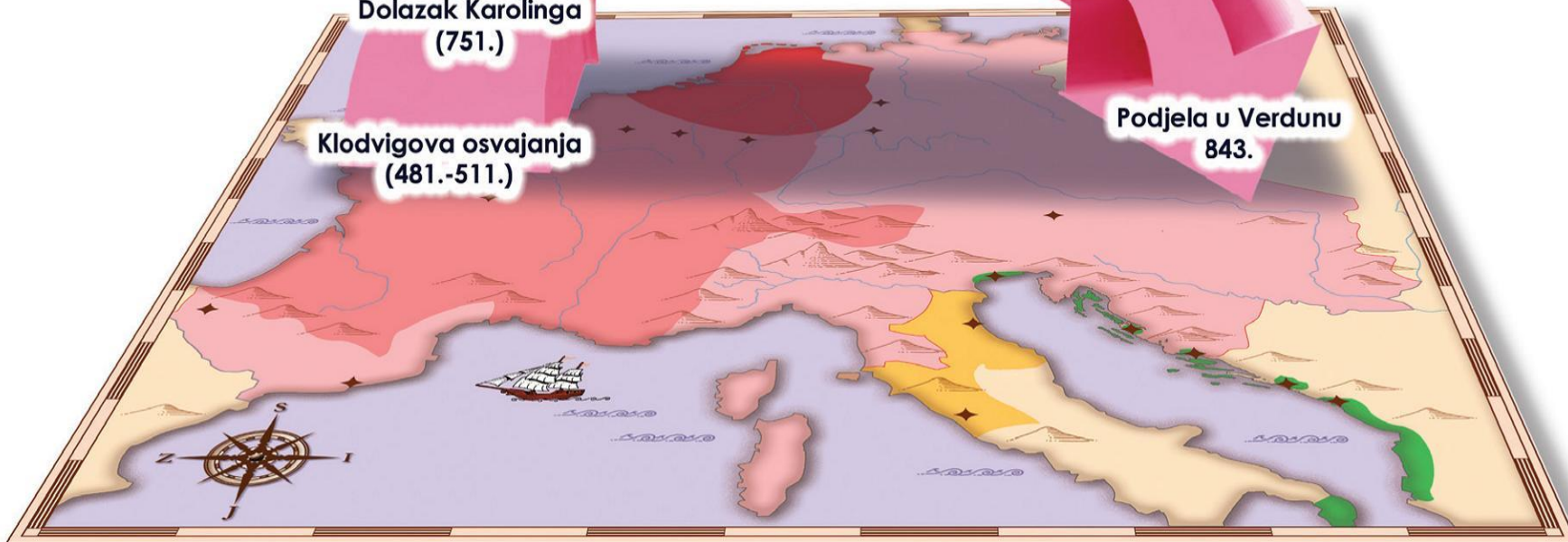
Osvajanja Karla Velikog

Slabljenje nakon Karla

**Dolazak Karolinga
(751.)**

**Klodvigova osvajanja
(481.-511.)**


**Podjela u Verdunu
843.**
















EINHARD O KARLU:

- Moj je vladar bio krupan čovjek, imao je okruglu glavu s velikim i živim očima i povelikim nosom, lijepu bijelu kosu, ugodan i vedar izraz lica. Njegova pojava... izazivala je svojim dostojanstvenim držanjem poštovanje, premda mu je vrat bio predebeo i prekratak, a trbuh ispupčen i omašan.

EINHARD O KARLU:

- *... Moj je vladar nosio domaće franačko odijelo. Na tijelo je oblačio lanenu košulju od domaćeg platna. Preko košulje oblačio je kaput ponešto ukrašen svilenim vrpčama, a svilene vrpce je imao i na hlačama. Zimi je preko svega oblačio kaput podstavljen krznom. Noge je obavijao obojcima.*

ZADATAK

Dopunite natuknice:

- Karlo Veliki vladao je u 2.pol. _____ st. i na početku _____ st.
- vodio je brojne ratove i pohode te je osvojio gotovo čitavu _____ i _____ Europu
- godine _____ u Rimu ga je _____ okrunio za _____ cara
- izbio je rat između Franačke i _____, koji je završio mirom u _____ 812.godine
- Karlo je poticao razvoj _____, _____ i _____

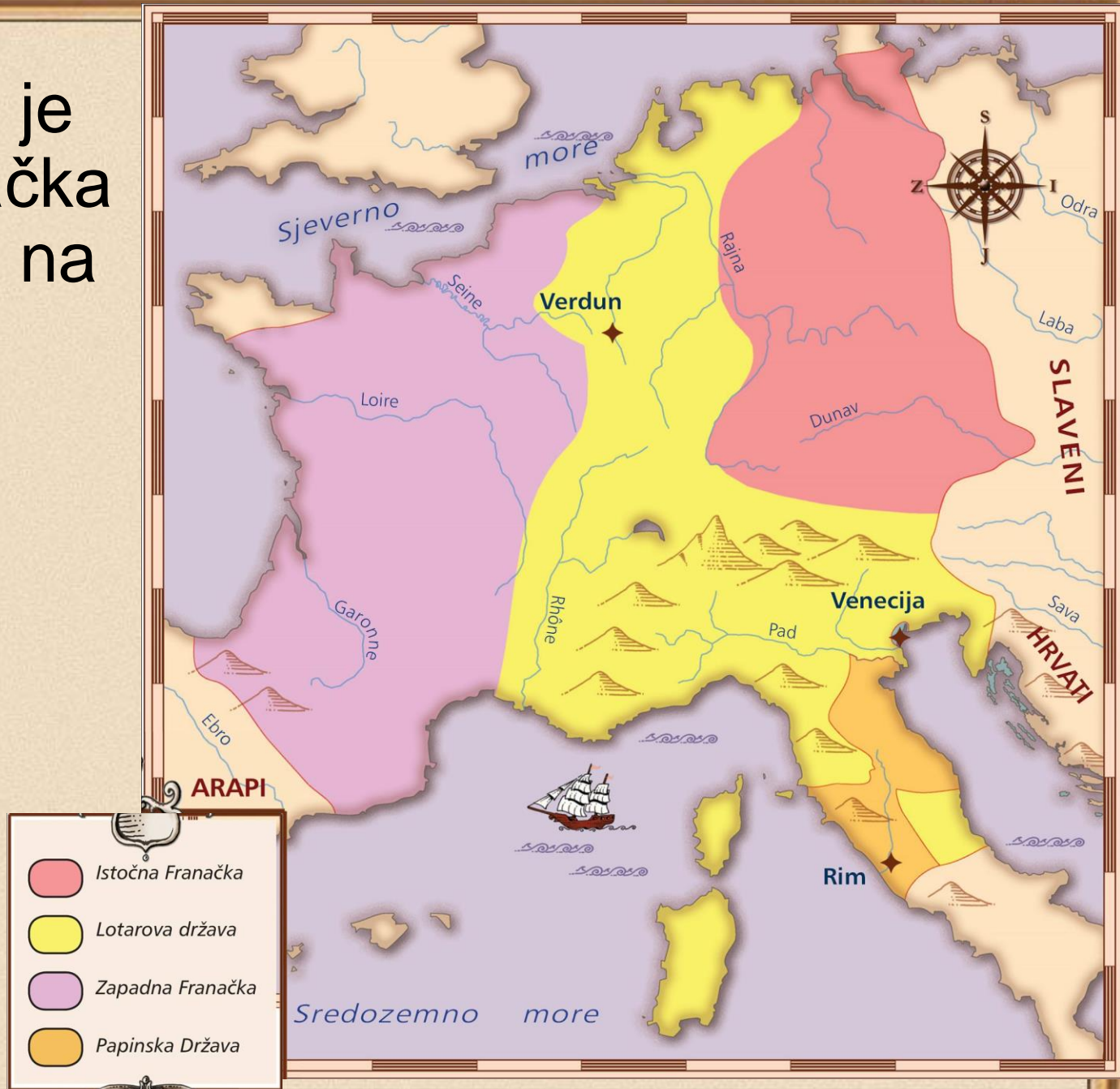
- Nakon Karlove smrti, njegovi se nasljednici bore za vlast.



- **U Verdunu je 843.** Franačka podijeljena na **tri dijela**: Istočnu Franačku, Zapadnu Franačku i Lotarovu državu.



- U Verdunu je 843. Franačka podijeljena na tri dijela: Istočnu Franačku, Zapadnu Franačku i Lotarovu državu.



Europa od IX. do XI. stoljeća

- U ovom će razdoblju novi narodi **Normani** i **Mađari** svojim pljačkaškim pohodima ugroziti Europu.

Pravci napada:

 Normanski napadi


 Mađarski napadi




 Mađari



- **Normani – Vikinzi**, dolaze sa sjevera Europe. Vješti i hrabri pomorci; u svojim napadima ugrožavaju obalna područja Engleske, Francuske, dolaze sve do Sredozemlja.





- Vikinški trgovski brod


Vikinzi u ratnom pohodu





Drakar - ratni brod





Mađari - Ugri



- Njemački kralj **Oton I.** porazio Mađare; Mađari se smiruju, prelaze na sjedilački život i prihvaćaju kršćanstvo.



- Mađarska kraljevska kruna (Kruna sv. Stjepana)



- Oton I. 962. postaje car države koja je nazvana **Sveto Rimsko Carstvo Njemačkog Naroda**





ZADATAK

- godine _____ Franačka se mirom u _____ raspala na tri države:
 1. Istočna _____
 2. _____ Franačka
 3. _____ država
- od kraja 9.st. Europom haraju _____ (Vikinzi) sa sjevera i _____ (Ugri) iz Panonske nizine
- Mađare je porazio kralj Istočne Franačke _____ I., koji je _____ g. okrunjen za cara Svetog _____ Carstva Njemačkog _____

DOMAĆA ZADAĆA

- RB
- Nacrtati u bilježnice lentu vremena i na njoj prikazati važnija zbivanja i vladare